

ATIVIDADE 2



**EMEF PROF<sup>a</sup> MAURA APARECIDA DASSIE VERGANI**

**MATEMÁTICA**

1) Em uma pesquisa feita pelos estudantes do 5º ano da escola "Primavera", sobre estados brasileiros, verificou-se que a população era a seguinte:

Segue tabela abaixo, analise-a para responder as alternativas a, b e c da questão 2.



ESTADO	POPULAÇÃO
Piauí	3,195.000
Espírito Santo	3,885.000
Pará	8,074.000
Alagoas	3,322.000



a. Calcule o total da população dos Estados de Piauí e Alagoas. Tire a prova para verificar a exatidão.

b. Qual a população de Espírito Santo e do Pará juntos?

c. Se reuníssemos a população de Piauí, Pará e Alagoas quantos habitantes teríamos? Tire a prova para conferir.

2) Fui à feira e comprei 4 dezenas de abacaxis, duas dúzias de abacates e 5 dezenas de cerejas. Quantas frutas eu trouxe para casa? Sabendo-se que 8 frutas estragaram-se no caminho?

3) Catarina quer colocar 3 dúzias e meia de enfeites no meu quarto. E mais meia dúzia no quarto do meu irmão. Quantos enfeites terão nos dois quartos?

4) Um livro tem 324 páginas. Quantas páginas haverá em 4 livros iguais?

5) Em uma prateleira havia 75 livros. Colocaram mais 9 e depois retiraram 15. Quantos livros ficaram?

--

6) Se em uma dúzia de ovos há 12 ovos, então quantas dúzias há em 108 ovos?

--

7) Resolva as divisões:

a)  $1.346:5=$

b)  $905:4=$

--	--

8) Resolva as multiplicações:

$$a) 65 \times 4 =$$

$$b) 1.280 \times 52 =$$

9) Resolva as subtrações:

$$a) 12.378 - 496 =$$

$$b) 10.000 - 99 =$$

10) Resolva as adições:

$$a) 1.260 + 348 =$$

$$b) 15.945 + 165 =$$

**EMEF PROFª MAURA APARECIDA DASSIE VERGANI**

**LÍNGUA PORTUGUESA**

**Interpretação de texto**

**A águia e a raposa**

Uma águia e uma raposa ficaram amigas e decidiram morar perto uma da outra, supondo que dessa forma fortaleceriam a amizade.

A águia voou sobre uma árvore muito alta, e lá fez seu ninho. A raposa foi para uma moita ao pé da árvore, e lá deu cria.

Mas um dia a águia sentiu falta de alimento e saiu em busca de caça, como não encontrou, precipitou-se então sobre a moita, arrebatou um filhote da raposa e o deu como alimento para seus filhotes.

Quando a raposa voltou, percebeu o que havia acontecido e ficou muito triste. Mas ficou ainda mais triste com a impossibilidade de se vingar da águia, pois não podia perseguir um animal que voava.

A raposa foi embora com seus outros filhotes e ficou de longe, apenas maldizendo sua inimiga.

Um dia, porém, alguns pastores mataram uma cabra para assar. A águia, muito ladina, voou rápido e arrebatou as carnes que estava em fogo, levando-as para a árvore onde estavam seus filhotes. Soprava um vento muito forte, e como a carne tinha um pedaço de brasa, incendiou um galho seco dessa árvore. Os filhotes da águia, incapazes de voar, caíram no chão. A raposa e seus filhotes correram e os devoraram.

***Moral:*** *Aqueles que com ferro ferem, com ferro serão feridos.*

Esopo

**Questões**

1) Qual é o título do texto?

R: \_\_\_\_\_

2) Quem é o autor da história?

R: \_\_\_\_\_

3) Quantos parágrafos há no texto?

R: \_\_\_\_\_

4) Quais são os personagens principais da história?

R: \_\_\_\_\_

5) O que levou a águia e a raposa a morarem perto?

R: \_\_\_\_\_

6) O que a águia fez quando não conseguiu encontrar alimentos?

R: \_\_\_\_\_

7) Como se sentiu a raposa?

R: \_\_\_\_\_

8) O que aconteceu quando a águia encontrou os pastores?

R: \_\_\_\_\_

9) O que aconteceu quando a águia levou a carne ao seu ninho?

R: \_\_\_\_\_

10) Explique com suas palavras a moral da história.

R: \_\_\_\_\_

Leia o texto e depois responda às questões abaixo:



1. Qual o gênero e a tipologia do texto?

---

2. O humor do texto acontece porque

- a) Maluquinho descobriu um novo remédio.
- b) a doença do mau hálito é muito incômoda.
- c) o remédio é a rolha do vidro e não o seu conteúdo.
- d) o remédio pode ser vendido para milhões de pessoas.

3. Os três sinais de exclamação que aparecem no primeiro quadrinho foram usados para ressaltar

- a) a descoberta de algo sem importância.
- b) a euforia do personagem com a descoberta.
- c) seu desejo de vender o remédio para o amigo.
- d) seu entusiasmo ao explicar como se tomava o remédio.

4. A expressão do rosto do amigo de Maluquinho no último quadrinho revela:

- a) surpresa.
- b) desânimo.
- c) raiva.
- d) decepção.



Atividade 2

## ARTE

DESCRIÇÃO DA ATIVIDADE: Pinte o desenho recorte e cole na primeira folha do seu caderno de arte.

# MEU CADERNO DE ARTE



Escola: \_\_\_\_\_

Aluno (A) \_\_\_\_\_

Professora \_\_\_\_\_

Turma \_\_\_\_\_ período \_\_\_\_\_

Nome: \_\_\_\_\_




Tema: Lateralidade

Escola: \_\_\_\_\_


Data: \_\_\_\_\_ Turma: \_\_\_\_\_ Aluno: \_\_\_\_\_

 **ESQUERDA OU DIREITA?**

1) PINTE SOMENTE QUEM ESTÁ INDO PARA A **ESQUERDA**.



3) AGORA, PINTE SOMENTE QUEM ESTÁ INDO PARA A **DIREITA**.



**DESCRIÇÃO DA ATIVIDADE:** NESTA ATIVIDADE O ALUNO DEVE FAZER A CORRESPONDÊNCIA DOS NOMES DAS ESTAÇÕES DO ANO EM INGLÊS COM OS DESENHOS E COLORIR.

NAME: ..... 5 ANO A /B .

(1) **STORMY** (2) **CLOUDY** (3) **RAINY** (4) **SUNNY**



---

( )



---

( )



( )



---

( )

GABARITO: **SUNNY**- ENSOLARADO  
**STORMY**- TEMPESTUOSO **CLOUDY**-  
NUBLADO **RAINY**- CHUVOSO

**GABARITO**

## MATEMÁTICA

1) <b>a)</b> 6.517.000 <b>b)</b> 11.959.000 <b>c)</b> 14.591.000	2) 106	3) 48	4) 1.296	5) 69
6) 9 dúzias	7) <b>a)</b> Q=269 R= 1  <b>b)</b> Q=226 R= 1	8) <b>a)</b> 260  <b>b)</b> 66.560	9) <b>a)</b> 11.882  <b>b)</b> 9.901	10) <b>a)</b> 1.608  <b>b)</b> 16.110

## LÍNGUA PORTUGUESA

### TEXTO: A ÁGUIA E A RAPOSA

- 1) A águia e a raposa
- 2) Esopo
- 3) 6 parágrafos
- 4) Águia e Raposa
- 5) A amizade
- 6) Arrebatou um filhote da raposa e deu como alimento a seus filhotes
- 7) Ficou muito triste
- 8) Arrebatou as carnes que estavam em fogo
- 9) Incendiou o galho seco da árvore
- 10) Resposta pessoal

## TIRINHA

- 1) Tirinha e Narrativo
- 2) C
- 3) B
- 4) A